

# MATEMATIKA, 17.3.2020

Če nimate možnosti tiskanja, si naloge napišite v zvezek. Pri besedilnih nalogah lahko napišete le račun in odgovor.

1.) Izračunaj.

$2 \cdot 3 = \underline{\quad}$

$3 \cdot 5 = \underline{\quad}$

$6 \cdot 6 = \underline{\quad}$

$9 \cdot \square = 18$

$\square \cdot 4 = 28$

$5 \cdot 5 = \underline{\quad}$

$\square \cdot 2 = 8$

$7 \cdot 3 = \underline{\quad}$

$2 \cdot 4 = \underline{\quad}$

$\square \cdot 10 = 80$

$36 : 4 = \underline{\quad}$

$70 : \square = 10$

$54 : 9 = \underline{\quad}$


$18 : 6 = \underline{\quad}$

$\square : 5 = 8$


2.) Deli.




10	
20	
12	
18	
8	



4	
24	
32	
28	
36	



15	
30	
45	
35	
5	



18	
54	
24	
42	
36	

3.) Kmetica ima kokoši. Vsak dan znesejo 6 jajc. Koliko jajc bo kmetica pobrala v enem tednu?

R: \_\_\_\_\_

O: \_\_\_\_\_

4.) Nejc ima 21 slamic. Koliko trikotnikov lahko sestavi iz njih?

R: \_\_\_\_\_

O: \_\_\_\_\_

5.) Koliko mesecev je četrtnina leta?

R: \_\_\_\_\_

O: \_\_\_\_\_

SLOVENSKI JEZIK, 17. 3. 2020

Reši 1. nalogo v DZ na strani 61. Popravljen besedilo natančno prepisi v zvezek.

GLASBENA UMETNOST, 17. 3. 2020

Staršem zapoj zadnje tri pesmice, ki smo se jih naučili.

SPOZNAVANJE OKOLJA, 17. 3. 2020

V učbeniku na strani 51 poišči zemljevid Ptuja z okolico. Ustno odgovori na naslednja vprašanja:

1. Po katerih poljih teče reka Drava?
2. Koliko naselij je na zemljevidu? Naštej jih.
3. Skozi katera naselja pelje železnica?
4. V katerem kraju stoji grad?
5. Koliko športnih letališč je označenih na zemljevidu?
6. Kateri je največji kraj na zemljevidu?
7. Kaj je na Ptujski Gori?
8. V katerem kraju so toplice?

Ostanite zdravi!