

## Učenci!

Pošiljam vam zadolžitve za **četrtek**, 19. 3. 2020

Lepo vas pozdravljam, učiteljica Mihaela

neobvezni izbirni predmet šport	Glej navodila učiteljice Damjane
slovenščina	Medpredmetno povezana snov
glasbena umetnost	Glej učni list o flavti
matematika	<b>Delovni zvezek 2. del, stran 78 in 79</b> (reši naloge in s pomočjo rešitev samostojno preveri pravilnost)
angleščina	Učni list
družba	Križanka
<b>REŠITVE NALOG ZA SREDO 18. 3. 2020</b>	SLJ, MAT, NIT

## SLOVENŠČINA IN GLASBENA UMETNOST - FLAVTA

**1. Natančno preberi besedilo in odgovori na vprašanja. Odgovore zapiši v zvezek za glasbo. Pazi na natančnost in obliko zapisa. Če imaš možnost tiskanja, list natisni.**

Flavta je inštrument, ki spada v družino pihal. Ko glasbenik pihne v flavto, se ujeti zrak v notranjosti zatrese. Tako nastane zvok.

Poznamo več vrst flavt: kljunasto in prečno flavto. Kljunasta flavta je lesena in je sestavljena iz treh delov. S pokrivanjem luknjic nastaja melodija. Igrati jo lahko začneš že s šestimi leti.

Prečna flavta ima namesto luknjic zaklopke. Prečno flavto je malce težje igrati kot kljunasto. Učiti se jo lahko začneš pri osmih letih. Tako kot vsak drugi instrument tudi flavta zahteva veliko vaje in vztrajnosti.

**2. Besedilo je :**

- a) vabilo
- b) opis
- c) pismo

**3. Dopolni.**

Zvok nastane takrat, ko glasbenik \_\_\_\_\_ .

Kljunasta flavta je lesena in je sestavljena \_\_\_\_\_ .

**4. Iz besedila izpiši poved, ki ti pove, kaj je flavta.**

\_\_\_\_\_  
\_\_\_\_\_

**5. Preštej vse povedi v 2. odstavku. Koliko jih je?** \_\_\_\_\_

**6. S šestimi leti lahko igraš :**

- a) prečno flavto
- b) kljunasto flavto


**7. Zadnji odstavek opisuje \_\_\_\_\_ flavto.**

**8. V petih lepih povedih opiši poljuben instrument in ga nariši v zvezek za slovenščino. Ne pozabi na naslov in datum.**

## ANGLEŠČINA

1. Hello, children. How are you today? \_\_\_\_\_.

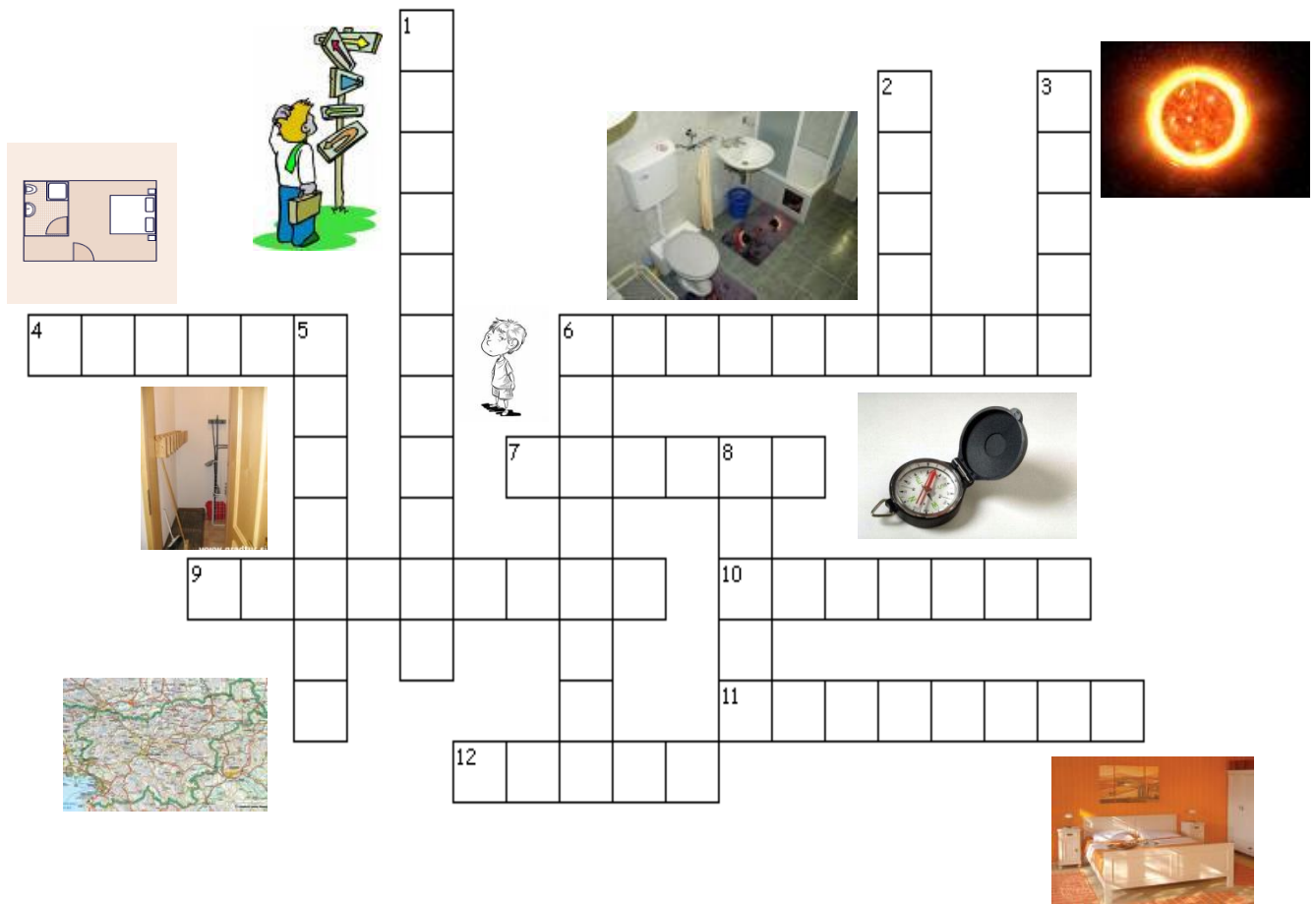
2. Oglej si sliko. Izberi ustrezen predlog ON, IN ali UNDER. Povedi zapiši v zvezek. Saj veš, piši čitljivo.



- a) The big dog is \_\_\_\_\_ the table.  
a in      b on      c under
- b) The small dog is \_\_\_\_\_ the chair .  
a in      b on      c under
- c) The black cat is \_\_\_\_\_ the bag.  
a in      b on      c under
- d) The books are \_\_\_\_\_ the table.  
a in      b on      c under
- e) The pens are \_\_\_\_\_ the chair.  
a in      b on      c under
- f) The bag is \_\_\_\_\_ the table.  
a in      b on      c under

## DRUŽBA

Reši spodnjo križanko.



### Vodoravno:

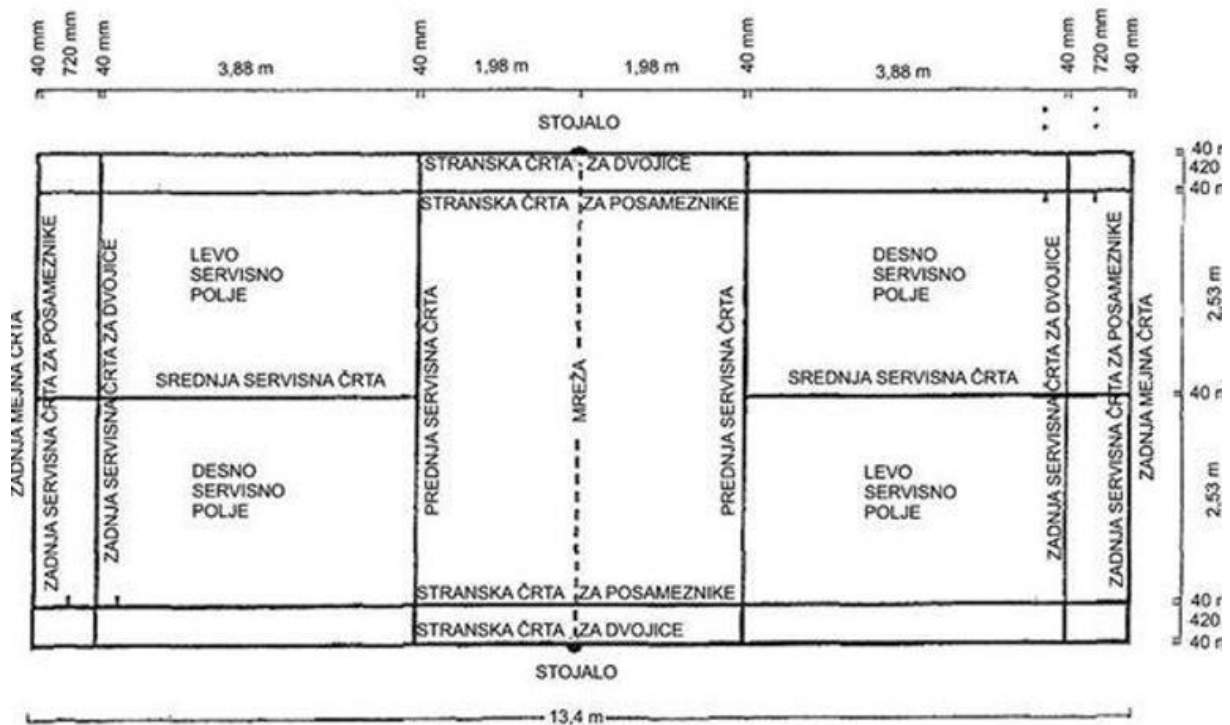
4. Pogled na predmet od zgoraj, ptičja perspektiva
6. Prostori za osebno higieno (kopalnica, stranišče)
7. Naprava za določanje strani neba
9. Pomanjšan prikaz zemeljskega površja
10. Razlaga dogovorjenih znakov na načrtu
11. Prostor za spanje
12. S črtami omogoča lažjo orientacijo na karti ali zemljevidu.

### Navpično:

1. Določanje položaja v prostoru glede na strani neba
2. Magnetna igla se vedno obrne v to smer.
3. Največja zvezda našega osončja
5. Prostor za shranjevanje različnih stvari
6. Kraj, kjer stojimo.
8. Knjiga zemljevidov

## NEOBVEZNI IZBIRNI PREDMET ŠPORT

### 1. ura: SPOZNAJMO IGRIŠČE ZA BMT



Na sliki vidite črte, ki so pomembne za igro badmintona. Ni potrebno, da si zapomnite mere dolžin, zapomnite pa si:

- katero igrišče je za igro 1:1 in igro 2:2?
- kje začnem servis?
- kam mora žogica po servisu?
- kdo mora servisno žogico odbiti v igri parov?
- koliko odbojev je lahko pri enem igralcu, na eni strani?
- katero je igralno polje in katero je servisno polje?

Pogovorite se doma, odgovorite na vprašanja. Se spomnite, katere barve so črte v naši šoli?

Da pa bomo pregnali dolgčas in naredili nekaj za naše telo, izvedite naslednje vaje:

10 poskokov razkoračno in skupaj, 15 počepov, 15 poskokov naprej nazaj, 15 poskokov levo in desno, 10 sklec, 15 trebušnjakov, 15 dvigov nog (ležiš na hrbtu) ter 5 – 7 minut teka na mestu. Če imaš možnost, lahko narediš to zunaj.

Ne pozabi narediti jutranje raztezne vaje. Sedaj, ko se ti ne mudi v šolo, lahko še v postelji pretegneš telo, narediš premah z nogo na levo stran in na desno stran. Stisneš nogi k sebi in prekotališ na levo in desno stran. Se usedeš in primeš nogi pod kolenom.



5. Dana so števila 923, 985, 986, 599, 589, 999.

a) Katero število je najmanjše? **599**

b) Uredi števila po velikosti od največjega do najmanjšega. **999, 986, 985, 923, 599, 589**

c) Izpiši število, ki ima 5 stotic ter enako število desetih in enic. **599**

č) Z besedo zapiši število, ki je za 10 večje od števila 986. **devetsto šestindevetdeset**