

# 5. A (torek), 17. 3. 2020

\*SLJ




ČRKE, KI TI BODO  
OSTALE, PREPĚŠI  
NA ČRTICE POD  
NASLOVOM.

## KRALJ Z UMAZANIMI NOGAMI

V KVADRATU IZ ČRK SO SKRITE SPODNJE BESEDE.  
IŠČI JIH NAVPIČNO IN VODORAVNO, BRANE TUDI NAZAJ.

GABU	KRALJ	REKA	STOPALA
INDJA	PALAČA	SMRAD	ČEVLI
KOPANJE	PREPROGA	STARČEK	



**\*MAT**

- ponovitev poštevanke

**1. Dopolni preglednico.**

POTENCA	OSNOVA POTENCE	STOPNJA POTENCE	ZMNOŽEK ENAKIH FAKTORJEV	VREDNOST POTENCE
$5^3$				
	4	3		
			$6 \cdot 6 \cdot 6 \cdot 6$	
$7^4$				
$2^5$				
	5	4		
			$7 \cdot 7 \cdot 7 \cdot 7 \cdot 7$	
	10			10 000
				100
$6^5$				

**2. Razčleni števila na tri različne načine. Glej primer.**

2 567
2 T 5 S 6 D 7 E
$2 \cdot 1000 + 5 \cdot 100 + 6 \cdot 10 + 7$
$2 \cdot 10^3 + 5 \cdot 10^2 + 6 \cdot 10 + 7$

31 406

345 078

387 567

**\*DRU**

### **DINARSKOKRAŠKA POKRAJINA**

1. Kdo je evropskim znanstvenikom prvi predstavil čudesa presihajočega jezera?
2. Kaj veš o kraških poljih, uvali, vrtači. Kako nastanejo?

### **OBSREDOZEMSKA POKRAJINA**

1. Opiši primorsko hišo.
2. Katere gospodarske dejavnosti so se razvile ob obali?

**\*NIT**

### **UTRJEVANJE ZNANJA**

1. Naštej nekaj primerov gorenja, ki so pomembni za življenje ljudi?
2. Naštej nekaj goriv?

**\*TJA**


**FRUIT/SADJE.** Napiši poimenovanje za spodnje sličice. Pazi na pravilen zapis!  
Če ne moreš delovnega lista natisniti, rešitve preprosto zapiši v zvezek.



S \_\_\_\_\_




C \_\_\_\_\_




B \_\_\_\_\_




A \_\_\_\_\_



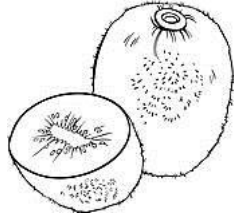
P \_\_\_\_\_



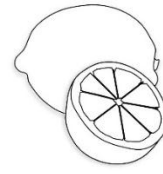
G \_\_\_\_\_



W \_\_\_\_\_




K \_\_\_\_\_



L \_\_\_\_\_



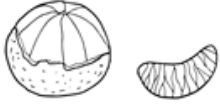
P \_\_\_\_\_



A \_\_\_\_\_



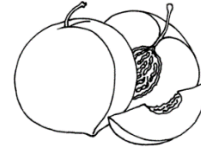
O \_\_\_\_\_



T \_\_\_\_\_



B \_\_\_\_\_



P \_\_\_\_\_