

SREDA, 22. 4. 2020


SPOZNAVANJE OKOLJA

PREVERJANJE ZNANJA

OKROG SVETA



1. Dopolni manjkajoče besede.

Zemljo najbolj prikazuje _____  . Zemljo lahko
prikažemo tudi z _____.

- Kaj je prikazano z modro barvo? _____
- Kaj je prikazano z rjavo barvo? _____
- Kako pravimo kopnemu na Zemlji? _____
- Kako pravimo vodam? _____
- Koliko imamo celin? _____
- Koliko je oceanov? _____

2. Podčrtaj celine.

Afrika, Šanghaj, Južna Amerika, Sahara, Italija, Evropa, Severna Amerika,
Madžarska, Azija, Slovenija, Avstralija, Antarktika, Kitajska.









3. Na kateri celini bi najraje živel/a? Zakaj?

4. Podčrtaj oceane.

Tihi ocean, Zahodni ocean, Vzhodni ocean, Atlantski ocean, Južni ocean,
Glasni ocean, Severni ocean, Indijski ocean, Afriški ocean, Azijski ocean

TEŽJE NALOGE:

5. H kateri celini sodi? Poveži vsako celino z drugo barvo.

- Največji tropski gozd je ob reki Amazonki. 
- Sahara je največja puščava.  JUŽNA AMERIKA
- Kitajska je država z največ prebivalci na svetu. AVSTRALIJA
- Najvišja gora je Mount Everest.  AFRIKA
- Značilne živali so pingvini, beli medvedi, kiti.  AZIJA
- To je območje kengurujev, koal, emujev.  EVROPA
- Kip svobode je mogočen kip.  SEVERNA AMERIKA
- Tu so Niagarski slapovi.  ANTARKTIKA
- Postojnska jama je ena najbolj znanih kraških jam. 

6. Obkroži pravilni odgovor.

- Katera trditev je pravilna?
 - a) V puščavah je zelo malo padavin, kljub temu pa rastlinstvo bujno uspeva.
 - b) V puščavah padavin ni nikoli, zato tudi ni rastlin in živali.
 - c) V puščavah je zelo malo padavin in zato tudi malo rastlin in živali.
 - č) V puščavah je padavin dovolj, zato je tam veliko rastlin in živali.

- Na kateri celini se nahaja velenesto Šanghaj?
 - a) Na Kitajskem.
 - b) V Aziji.
 - c) V Ameriki.
 - č) Na Japonskem.

- Kje leži celina Antarktika?
 - a) Na severu.
 - b) Na jugu.
 - c) Na vzhodu.
 - č) Na zahodu.

- Kaj velja za Mrtvo morje?

- a) Voda je sladka.
- b) Voda je slana.
- c) Voda je kisla.
- č) Voda je grenka.

- Katera država ima največje število prebivalcev na svetu?

- a) Japonska.
- b) Velika Britanija.
- c) ZDA.
- č) Kitajska.



- Katere od naštetih celin na globusu ne vidimo, če globusa ne obračamo?



- a) Avstralije.
- b) Evrope.
- c) Afrike.
- č) Azije.

- Kje se nahaja najdaljša reka na svetu?

- a) V Afriki.
- b) V Aziji.
- c) V Evropi.
- č) V Avstraliji.

- Kateri celini pravimo tudi črna celina?

- a) Afriki.
- b) Ameriki.
- c) Evropi.
- č) Aziji.

- Kaj je v Južni Ameriki?

- a) Sahara.
- b) Mount Everest.
- c) Gora Machu Picchu.
- č) Kip svobode.

- Katera trditev je pravilna?

- a) Najtoplejša celina je Avstralija, najhladnejša pa Antarktika.
- b) Najtoplejša celina je Afrika, najhladnejša pa Antarktika.
- c) Najtoplejša celina je Afrika, najhladnejša pa Evropa.
- č) Najtoplejša celina je Amerika, najhladnejša pa Azija.

- Katera znamenitost Avstralije je na fotografiji?



- a) Sydneyjska operna hiša.
- b) Uluru.
- c) Veliki koralni greben.
- č) Dunajska operna hiša.

SLOVENSKI JEZIK

1. Oglej si sliko in ustno odgovori na vprašanja.

- Koliko psov je na sliki?
- Kateri pes po vrsti je črne barve?
- Kateri po vrsti ima pike?
- Kakšne barve je tretji po vrsti?
- Kako je ime četrtemu psu?



ŠEST PSOVI

6

Koliko psov?

ŠESTI PES

6.

Kateri pes?

- Si opazil/a kakšno razliko med zapisom teh dveh števil? Števili se razlikujeta v **piki**, ki jo ima drugo število. Še enkrat preberi števili.

2. **Beri na glas** števila in utrdi zraven še poznavanje števil do 1000. Bodi pozoren/a na piko.

PRIMER

121	STO	ENA	INDVAJSET
121.	STO	ENA	INDVAJSETI

609	375.	489.	812	935.	448	599.	234	135	404.
-----	------	------	-----	------	-----	------	-----	-----	------

3. **Preberi** še spodnje besedilo.

- Ob **9.** uri imam zobozdravnika. V čakalnici je bilo **9** pacientov.
- V skupini je **5** učencev. Tina je **5.** član.
- Športni dan imamo **15.** aprila. Na počitnicah smo bili **15** dni.
- Na tekmi sem bil **10.** Na tekmi je bilo **10** otrok.

4. Odpri DZ, str. 39.

- **Preberi** zgornje besedilo. Podčrtaj vsa števila, napisana z besedo.
- **Preberi** še spodnje besedilo.

- **Primerjaj** besedili in povej, po čem se razlikujeta.
- V drugem besedilu **podčrtaj** z **ZELENO** vsa števila, ki nam odgovorijo na vprašanje KOLIKO. Število zapišemo **brez pike**.
- Z **RDEČO** **podčrtaj** vsa števila, ki nam odgovorijo na vprašanje KATERI (PO VRSTI). Število zapišemo **s piko**.
- S kljukico označi, kateri zapis poročila se ti zdi preglednejši.

5. V zvezek napiši naslov **VAJA**.

- Napiši dve povedi, kjer boš uporabil/a števili **7**. in **7** ter
- dve povedi, kjer boš uporabil/a besedi **trinajst** in **trinajsti**.

MATEMATIKA

1. Ponovimo.

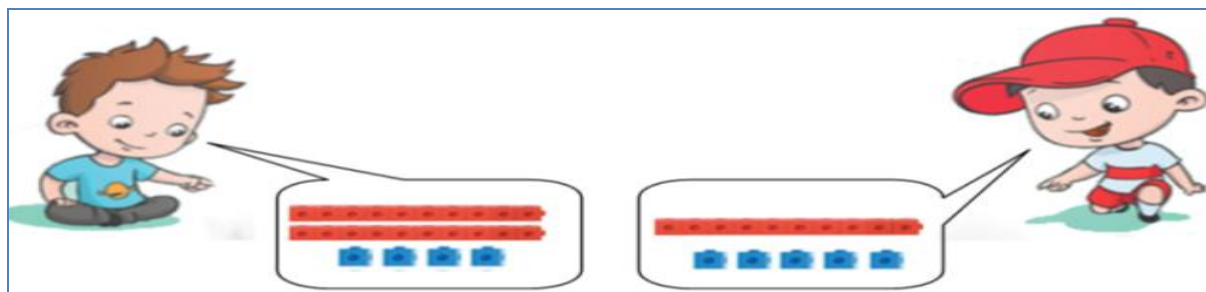
Ustno seštej naslednje račune.

$$\begin{array}{cccc}
 300 + 60 = \underline{\quad} & 430 + 70 = \underline{\quad} & 750 + 30 = \underline{\quad} & 950 + 40 = \underline{\quad} \\
 500 + 500 = \underline{\quad} & 440 + 200 = \underline{\quad} & 160 + 300 = \underline{\quad} & 630 + 200 = \underline{\quad} \\
 700 + 2 = \underline{\quad} & 213 + 6 = \underline{\quad} & 342 + 7 = \underline{\quad} & 871 + 8 = \underline{\quad}
 \end{array}$$

2. Danes se bomo učili **pisno seštevati**. Sešteli bomo števili 24 in 15. Pri pisnem seštevanju števila zapišemo v stolpcu. Poskusimo.







Brin ima 24 kock.

Jon ima 15 kock.



Izračunali bomo skupno število Brinovih in Jonovih kock.

Brinove in Jonove kocke so narisane spodaj v preglednici.

	D	E
		
		
	3 D	9 E

Rdeče kocke predstavljajo **D** (desetice) in modre kocke **E** (enice).

- Desetice smo zapisali pod desetice in enice pod enice. Pod obema podatkomoma je odebeljena črta, ki pomeni **je enako**.

Računamo:

- Najprej izračunamo, koliko je E (enic). **$5E + 4E = 9E$** To zapišemo v **preglednico pod E**.
- Nato izračunamo, koliko je D (desetic). **$1D + 2D = 3D$** To zapišemo v **preglednico pod D**.

Prikaz pisnega seštevanja s števili v preglednici.

	D	E
	2	4
+	1	5
<hr/>		
	3	9

Prikaz pisnega seštevanja v stolpcu brez preglednice.



D E

2 4 Najprej zapišemo število 24, ki ima 2D in 4E.
 + 1 5 Temu številu dodamo število 15, ki ima 1D (vpišemo jo pod 2D) in 5E
 _____ (vpišemo jo pod 4 E).
 3 9

Računamo: **$5E + 4E = 9E$** Zapišemo pod črto (črta pomeni je enako) pod enice.
 $1D + 2D = 3D$ Zapišemo pod črto pod desetice.

Pri pisnem seštevanju vedno začnemo seštevati pri enicah in nadaljujemo pri desetih.

3. V matematični zvezek napiši naslov **PISNO SEŠTEVANJE** in prepisi račune v spodnjih preglednicah.

	D	E
	4	4
+	2	3
<hr/>		
	6	7

Računamo: **$3E + 4E = 7E$**
 $2D + 4D = 6D$

	D	E
	4	5
+	3	4
<hr/>		

	D	E
	8	2
+	1	1
<hr/>		

	D	E
	3	7
+	5	2
<hr/>		

	D	E
	2	5
+	3	0
<hr/>		

4. Reši naloge v DZ na strani 44 in 45 (7. naloge ti ni potrebno prepisati v zvezek) ter v IKSU na strani 87.

ŠPORT

V četrtek smo imeli športni dan. Če želiš še izvajati naloge in izboljšati svoje rezultate, jih lahko še večkrat ponoviš.

Za ostale pa je na voljo še športna igra, ki jo lahko izvajate doma. Za igro potrebujete igralno kocko, ki jo lahko večkrat vržete. Za določeno število pik je v tabeli prikazana vaja.

	POČEPI 10X	
	TREBUŠNJAKI 8X	
	SKLECE 6X	
	IZPADNI KORAK 4X	
	POVALJKE 8X	
	PAJAC 8X	

ANGLEŠČINA – 3. RAZRED

V živalskem vrtu – At the zoo

Dragi učenec, draga učenka!

Ponovno nadaljujemo s temo – At the ZOO (v živalskem vrtu). 😊


V tej uri boš ponovil znanje in se naučil tudi kaj novega. 😊



1. Najprej ponovno poslušaj zgodnico DEAR ZOO in ob tem ponovi izgovorjavo besed za živali.

DEAR ZOO: <https://www.youtube.com/watch?v=rudDGRQ9QGA>

2. Oglej si risanko Peppa the pig. Peppa je s svojimi sošolci odšla v živalski vrt. Tam je videla veliko živali, spoznala pa je tudi, kaj jedo. 😊



Peppa the pig – At the zoo:

<https://www.youtube.com/watch?v=wG79NIO0x7w>

Kar nekaj živali že poznaš, nekaj pa je tudi novih, kajne? 😊
Katere so te? **Nariši jih v zvezek in dopiši imena zanje.**

Naj ti malo pomagam (poleg je tudi izgovorjava):

- **tortoise (želva):** https://www.youtube.com/watch?v=dOzEB4P_h1k
- **gazzele (gazela):** <https://www.youtube.com/watch?v=J88BykKkmrl>
- **penguin (pingvin):** <https://www.youtube.com/watch?v=66dzvDmttqs>
- **butterfly (metulj):** <https://www.youtube.com/watch?v=krJC4J32rN8>

Si si zapomnil, kaj jedo? **Prepiši spodnje besede v zvezek ob živali, ki si jih narisal.**

- **Meat (meso):** <https://www.youtube.com/watch?v=WEVp7hNkz3s>
- **Vegetables (zelenjava):** <https://www.youtube.com/watch?v=XtohQ7EuWlQ>
- **Fruit (sadje):** <https://www.youtube.com/watch?v=abmuP6NP4Nk>
- **Grass (trava):** <https://www.youtube.com/watch?v=s8Juzkhq9Ls>
- **Lettuce (solata):** <https://www.youtube.com/watch?v=elw5mdlcboA>

p.s. Vesela bom, če mi boš poslal sličico naloge. 😊