

WHERE ARE WE GOING, POOH?

HOME, PIGLET.

WE'RE GOING HOME.

BECAUSE THAT'S THE

BEST THING TO DO

RIGHT NOW.



(9. b, 4. teden)

STAY
HOME

STAY
HEALTHY

9. b!



Še en dan na daljavo je za nami, pred nami pa čisto nov, še nepopisan list. Verjamem, da ga bomo skupaj popisali, obarvali v kar najboljši meri. Vse je odvisno samo od nas. Noben jok in stok nam ne bosta pomagala. Samo delo in pozitivno razmišljanje in veliko dobre volje.

Pravijo, da smo na dobri poti.

Da nam uspeva zajezev okužb.


Da pa moramo še vztrajati.

In ravno vztrajati je pogosto tako zelo težko. Ampak mi bomooooooooooooo, kajne?

V teh dneh bomo učitelji začeli preverjati vaše znanje. Imejte to v mislih in še bolj redno in dosledno izpolnjujte svoje učne obveznosti.

In zopet sem se oglasila pri nekaterih od vas doma ...

Današnji izziv. Kaj je predmet na fotografiji in čigav je?



vaša razredničarka

Najprej pregledj rešitve včerajšnjega dela:

3. Pot iz Ljubljane do Podsmreke.
Da bi spoznali kraje, v katerih so bili rojeni trije veliki slovenski pisci (Primož Trubar, Fran Levstik, Josip Stritar) in drugi kulturni delavci.
Literarni trikotnik.
Ker so bili na tem ozemlju, ki ima obliko trikotnika, rojeni Trubar, Levstik in Stritar.
V Ljubljani.
V Podsmreki.
Štirje.
Turjak, Rašica, Knej, Kaplanovo.
Na Turjaku je starodavni grad. Na Rašici je Trubarjeva rojstna hiša. V Kneju zaviješ levo. V Kaplanovem zaviješ pri starem mlinu levo.

Načeloma imajo učenci težave s 4. nalogo. Ste pregledali, če ste imeli prav? In če pogledate še 6. nalogo – Glagolu se lahko določi še glagolski naklon in glagolski vid.

1. Za ogrevanje se znova vrnite na 6. nalogo (DZ, str. 8) in levo od prvega stolpca ob posameznem glagolu napišite, ali je dovršen ali nedovršen.
2. Klikni na spodnjo povezavo, preberi članek in si oglej tudi triminutni video o »slovenskih Atenah«. Pri tem v zvezek zapiši odgovore:

- a) Zakaj se Velike Lašče imenujejo tudi slovenske Atene?
- b) Kdaj poteka grajski dan na Turjaku?
- c) Kaj piše na spominski plošči v Trubarjevi rojstni vasi?
- č) Kaj vse sestavlja poslopje in okolico Trubarjeve domačije?

POVEZAVA:

<https://siol.net/trendi/odkrivaj-slovenijo/kraj-ki-ga-imenujejo-kar-slovenske-atene-video-391394>

3. V delovnem zvezku reši naloge 9–13 (str. 9 in 10).

* 4. Naloga za »ta hitre«.

Preberi opis na desni in skiciraj pot od parkirišča do planinskega doma. Označi pomembnejše točke in odcepe. Lahko mi pošlješ, da vidim to umetnino 😊

Gospodična na Gorjancih in Trdinov vrh

IZHODIŠČE

Iz Novega mesta sledimo oznakam za Šentjernej, v vasi Mali Slatnik zavijemo na jug, peljemo mimo Križa, Velikega Slatnika in Hrušice. Parkiramo ob Šumečem potoku na koncu vasi Gabrje (368 m).

POT

Poiščemo modre markacije, ki nas ob potoku vodijo v gozd. Pot nas vodi v desno do rdeče-belih oznak. Nekaj časa hodimo po stezici, nekaj časa po kolovozu in v rahlem vzponu dosežemo rob travnikov, kjer se nam odpre razgled po Dolenjski. Zadnji del gremo spet skozi gozd do izvira studenca na Gospodični. Nad njim je planinski dom. Nadaljujemo po cesti, za križiščem je kmalu odcep stezice levo v gozd. V dokaj strmem vzponu v velikem loku v desno spet stopimo na cesto. Po cesti nadaljujemo 1 km do odcepa desno. Po strmem vzponu, ki se konča s stopnicami, sestopimo na razgledni Trdinov vrh (1178 m).

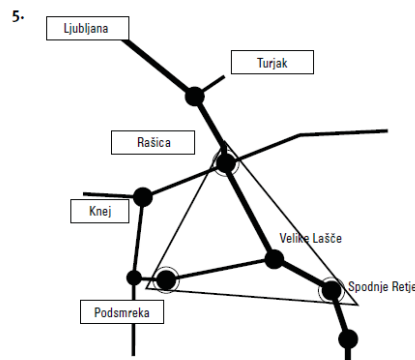
SESTOP

Po cesti gremo mimo kapele, oddajnika in vojaške postojanke do ovinka, kjer stopimo na pot v gozd. Skozi pragozd Gorjanci sestopimo čez strmo pobočje do nižje uravnave, kjer je križpotje. Desno je pot do Sv. Miklavža, levo do Krvavega kamna. Zavijemo levo, po kolovozu smo hitro na gozdni cesti in večjem križišču s smernimi tablam. Po cesti nadaljujemo zahodno mirno naslednjega križišča. Le malo dalje zavijemo s ceste desno na široko pot, ki nas pod cesto skozi gozd pripelje do doma. Do izhodišča sestopimo po isti poti ali po vzporedni poti čez Skrince. Ta pot je sicer bolj razgledna, vendar manj uhojena, bolj zaraščena in slabše markirana.

ČASI

Gabrje–planinski dom 90 min
Planinski dom–Trdinov vrh 60 min
Sestop 100 min

4. Navedene so faze/koraki poti.
Ne.
Ker koraki niso pravilno razvrščeni.
Korake moram pravilno razvrstiti.
7, 3, 1, 6, 8, 5, 2, 4, 9



6.

GLAGOL	OSEBA	ŠTEVILO	ČAS
se odpelješ	2.	ednina	sedanjik
se ustaviš	2.	ednina	sedanjik
si ogledaš	2.	ednina	sedanjik
nadaljuješ	2.	ednina	sedanjik
se pelješ	2.	ednina	sedanjik
si ogledaš	2.	ednina	sedanjik
zaviješ	2.	ednina	sedanjik
se pelješ	2.	ednina	sedanjik
zaviješ	2.	ednina	sedanjik
se pripelješ	2.	ednina	sedanjik

V 2. osebi ednine in v sedanjiku.

7. c

Hello and welcome to the English class.

1. Kot vedno, začni s pregledovanjem nalog prejšnje ure.

Rešitve: **WB 42/1** 2 Do you buy things on the internet? 3 Did you apply for the job? 4 Have you got a smartphone? 5 What were you doing on Saturday? 6 Who have you invited to the party? 7 Where was this photograph taken? 8 What time shall we meet? **WB 42/2** 2 are you doing 3 will Tina be home 4 competitions has Max won 5 does Emma work 6 do you go swimming 7 are you going to take the test 8 did Jack go home early 9 can you play **WB 42/3** 2 working 3 watering 4 looking 5 helping 6 filling 7 sweeping 8 serving 9 taking 10 applying

2. Odpri učbenik na strani 47. Preberi navodilo slušne naloge 8. Napiši naslov Schoolwork v zvezek in nariši tabelo. Poslušaj spodnji posnetek (klikni na Page 47, exercise 8a) in zapiši podatke o ljudeh, ki govorijo o svojih službah med vikendi. Pomagaj si z danimi besedami v okvirčku. Ni težko, kajne?

<https://elt.oup.com/student/project/level5/unit04/audio?cc=si&selLanguage=en>

3. Odpri učbenik na strani 54 in tvori vprašanja na dane odgovore. Cameron je postal član nove glasbene skupine Mind Games in z njim novinar opravlja intervju.

CELA(!) vprašanja seveda zapiši v zvezek. Ko boš opravil/a, na spodnji povezavi (Page 54, exercise 1b) PREVERI, koliko vprašanj si zapisal pravilno. Popravi napake in mi pošlji sliko zvezka.

<https://elt.oup.com/student/project/level5/unit04/audio?cc=si&selLanguage=en>

4. Zdaj pa boš poslušal/a intervju z dvema človekoma, ki sta svoj hobi spremenila v sanjski poklic. To je približno tako, kot če bi Jurij postal poklicni kolesar.

Odpri učbenik na strani 54, slušna naloga 3. (Page 54, exercise 3a)

<https://elt.oup.com/student/project/level5/unit04/audio?cc=si&selLanguage=en>

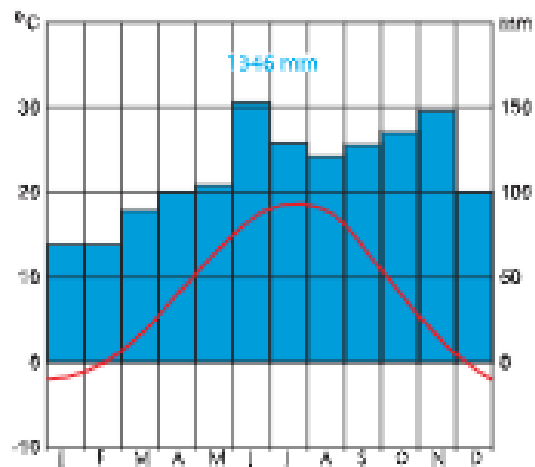
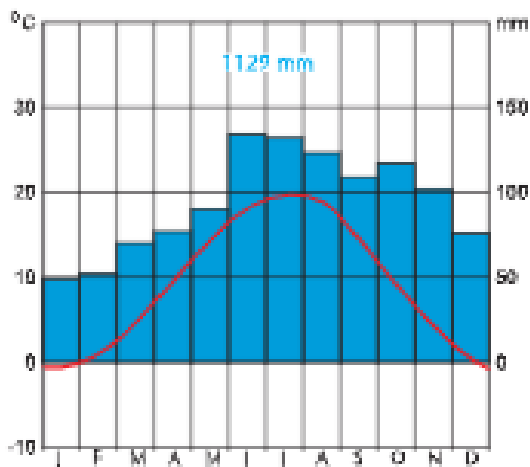
A uganete kateri od teh dveh poklicev bi ZAME bil sanjski? Ne rečem, da učiteljski poklic ni sanjski, pa vendar... Odgovore pričakujem na že znanem naslovu.

V zvezek zapiši naslov, prepisi besedilo, ki je v okvirju in reši naloge.

1. PODNEBJE

Zaradi nižjih nadmorskih višin je podnebje manj ostro, kot v Alpskih pokrajinah. Prevladuje **zmerno celinsko podnebje**, nekateri najvišji predeli hribovij pa imajo **gorsko podnebje**.

NALOGA: Eden od klimogramov prikazuje temperature in padavine na Brniku (nmv 364), drugi pa temperature in padavine v Celju (nmv 244). Poišči oba kraja na zemljevidu Slovenije in analiziraj klimograma. Na črto pod vsakim napiši, za kateri kraj gre. V analizi upoštevaj viške in nižke temperatur in padavin (koliko, kdaj se pojavlja), letno količino padavin.



Analiza:

2. ZAHODNO PREDALPSKO HRIBOVJE (učb. 101, 102)

NALOGA:

a) s pomočjo zemljevida Slovenije določi geografski položaj Zahodnega hribovja. (na severu meji..., na jugu meji..., na vzhodu meji..., na zahodu meji...)

b) iz učbenika izpiši reliefne in kamninske značilnosti tega območja.

3. VZHODNO PREDALPSKO HRIBOVJE (učb. 102, 103)

NALOGA:

- a) s pomočjo zemljevida Slovenije določi geografski položaj Vzhodnega hribovja. (na severu meji..., na jugu meji..., na vzhodu meji..., na zahodu meji...)
- b) iz učbenika izpiši reliefne in kamninske značilnosti tega območja.

Rešitve DL 6

Reliefna enota (hribovja, prisojna pobočja, kotline, doline)	Družbene značilnosti (tipi naselij, tip gospodarstva)
<i>Dno dolin in kotlin</i>	<i>Gručasta naselja; storitvene dejavnosti in industrija</i>
prisojna <i>pobočja</i> in uravnave	prevlada zaselkov in <i>samotnih</i> kmetij
predalpska <i>hribovja</i>	v ospredju sta živinoreja in izkoriščanje gozda
predalpske kotline in večje <i>doline</i>	v ospredju so <i>storitvene</i> dejavnosti in industrija

ŠPORT

1. Preberi o športnovzgojnem kartonu:
<http://www2.arnes.si/~amrak3/SPORTNA%20VZGOJA/svk/svk.htm>
2. Izvedi gimnastične vaje – raztezne, krepilne in sprostilne. Vaje izvajaj zunaj.
3. Utruj vaje športnovzgojnega kartona.
4. Izvedi vaje za ŠPORTNI IZZIV.
5. Reši kviz o športnovzgojnem kartonu: <http://www2.arnes.si/~amrak3/KVIZI/svk/SVK.htm>

P. S.: Danes je svetovni dan zdravja.

MATEMATIKA

TEMA: OBDELAVA PODATKOV

ENOTA: Verjetnost dogodka

Pripravi zvezek in »odpri« e-učbenik na povezavi

<https://eucbeniki.sio.si/mat9/927/index.html>

V zvezek napiši naslov **VERJETNOST – OSNOVNI POJMI**.


Preberi prvo stran in upoštevaj navodila. S krogom prikaži omenjene ulomke (v zvezek, 1. naloga). Reši 2. nalogo (brez pisanja).

S puščico desno spodaj (obkroženo zeleno) se pomakneš na naslednjo stran. Oglej si risanko in reši zgled. Nato v zvezek prepisi besedilo v zelenem okvirju: kaj je poskus, dogodek, izid ... in reši še ostala zgleda. Na primeru *Met poštene igralne kocke* zapiši, kaj je poskus, dogodek in izid.

Pomakni se na naslednjo stran v učbeniku- DOGODEK in preberi, kaj so se odločili Miha, Maja in Luka. Preveri njihove izbrane dogodke s klikom na njihova imena.

DOGODEK

V posodi so tri rdeče in dve modri kroglici. Miha, Maja in Luka so se odločili, da bi vsak izmed njih zamislil, iz posode iztekel eno kroglico in ji nato vrnil nazaj v posodo. Miha: "Zagotovo bom iztekel modro kroglico." Maja: "Zagotovo bom iztekle zelene kroglice." Luka: "Iztekel bom rdečo ali modro kroglico." Čigava napoved dogodka se bo zagotovo uresničila in čigava ne?



Slučajni dogodek je dogodek, ki se pri nekaterih ponovitvah poskusa zgodi, pri drugih pa ne.
 Nemogoč dogodek je dogodek, ki se ne more zgoditi pri nobeni ponovitvi poskusa.
 Gotov dogodek je dogodek, ki se zgodi pri vsaki ponovitvi poskusa.

ZGLED

Vržemo igralno kocko. Napiši tri slučajne dogodke, tri nemogoča dogodke in tri gotove dogodke za naveden poskus.



Zapisane dogodke poveži z ustreznimi vrstami dogodkov:

Izvalileno rdečega asa	gotov dogodek
Izvalileno asa	slučajni dogodek
Izvalileno trile in pisa	nemogoč dogodek

Število napačnih: 0

V zvezek prepisi besedilo v rdečem okvirju. Kaj je slučajni, nemogoči in gotovo dogodek in reši dana zgleda. Pomakni se na naslednjo stran, preberi povzetek in po potrebi dopolni svoje zapiske.

POVZETEK

Poskus je vsaka načrtna aktivnost, ki jo izvajamo pod enakimi pogoji po vsaj eni določeni pravili. Dogodek je vsak pojav, ki se pri poskusu lahko zgodi ali pa tudi ne. Izid je vsak nesestavljen dogodek, ki se lahko zgodi v danem poskusu. Ugodni izidi so tisti, ki se zgodijo v korist opazovanega dogodka, neugodni pa tisti, pri katerih se opazovani dogodek ne zgodi.

Naj bo poskus met kocke in dogodek: "Pade sode število pik". Pri izvedbi poskusa je možnih šest izidov, trije so ugodni (pade 2, 4 ali 6 pik) in trije neugodni (pade 1, 3 ali 5 pik). V naslednjem primeru pravilne razredi zapisane poskuse in dogodke.

IGRALNA KOČKA	KARTE
POSKUS DOGODEK	POSKUS DOGODEK
PIKADO	KROGLICE
POSKUS DOGODEK	POSKUS DOGODEK



Slučajni dogodek je dogodek, ki se pri nekaterih ponovitvah poskusa zgodi, pri drugih pa ne.
 Nemogoč dogodek je dogodek, ki se ne more zgoditi pri nobeni ponovitvi poskusa.
 Gotov dogodek je dogodek, ki se zgodi pri vsaki ponovitvi poskusa.

V večjo damo eno zeleno, eno rdečo in dve modri kroglici. Nato zamisli in izvele eno kroglico.



Dogodke poveži z ustreznimi vrstami dogodkov:

Izvalileno modro kroglico	gotov dogodek
Izvalileno črna kroglico	slučajni dogodek
Izvalileno bevrno kroglico	nemogoč dogodek

Število napačnih: 0

Nato reši še naloge na naslednjih dveh straneh. Nalog ni potrebno pisati v zvezek, rešuješ jih s klikanjem in vpisovanjem odgovorov v okvirček. Ne pozabi preveriti pravih rezultatov.

E-učbenik, str. 501/1-6
 str. 502/7 in za uspešnejše *9,*10



Sedaj si že pravi statistik, HURA!!!